

Муниципальный этап
Весенней олимпиады школьников по истории 2023-2024 учебного года
7 класс
 Максимальная оценка – 100 баллов

Время на подготовку – 2 академических часа (120 мин)

1	2	3	4	5	6	7	8	9	10	всего
9	10	6	8	12	10	8	20	7	10	100

Задание 1. Выберите дескриптор верных ответов в каждом задании. Ответы запишите в прилагаемую ниже таблицу (по 1 баллу за каждый правильный ответ, максимальный балл – 9).

- 1.1. Укажите провинции культуры, которые были созданы в XV веке:
- 1) «Нисога Дипенски»
 - 2) «Тронца» А. Рубена
 - 3) Собор Святого Петра в Ватикане
 - 4) «Мокене Дванига Загоника»
 - 5) «Шецка» Миселанджео
 - 6) «Хожение за три моря» А. Никитина

1.2. Выберите из предложенного перечня события, относящиеся к XII в.:

- 1) Генеральные штаты во Франции
- 2) свержь Мстислава Великого
- 3) битва на реке Альте
- 4) основание города Юрьев-Польский
- 5) Второй крестовый поход
- 6) Ливонский съезд

1.3. Укажите пары современников:

- 1) Карл II Лаский – Рюрик
- 2) Ярослав Мудрый – Инокентий III
- 3) Александр Невский – хан Ватый
- 4) Василий I – Генрих VIII Тавор
- 5) Сергей Радонежский – Стефан IV Душан
- 6) Марфа Боревская – Болеслав I

1.1	1.2	1.3

Задание 2. Изучите прилагаемые рисунки, определите и напишите, по какому принципу выстроены каждый ряд (по 2 балла за каждый максимально правильный ответ. Максимальный балл – 10)

2.1. Вино, грабли, коса, серп, соха

Ответ: _____

2.2. Грива-Мену, Ватый, Мену-Танур, Беркс, Сартак

Ответ: _____

2.3. Князь, тащущий, «300 золотых покров», посадник, кончанские старосты

Ответ: _____

2.4. Гасиль, хохлома, жостовская роспись, дымковская и филипповская игрушки

Ответ: _____

2.5. Золотые ворота, Дмитриевский собор, храм Покрова-на-Нерли, Успенский собор

Ответ: _____

Задание 3. Дайте краткое обоснование принципа составления рядов исторических событий, назовите один лишний элемент, свой выбор обоснуйте. (Максимум 2 балла за ряд. Лишний элемент – 1 балл, обоснование – 1 балл. Максимальный балл – 6)

3.1. Разань, Коломна, Торжок, Москва, Киев

Ответ: _____

3.2. Корела, вель, жмуль, мурова, мордва

Ответ: _____

3.3. Подушка, чашуйка, плет, сфинкс, поковка

Ответ: _____

Задание 4. Установите соответствие между событиями отечественной истории и событиями зарубежной истории, пронумеруйте в том же веке. Запишите выбранные цифры под соответствующими буквами в таблицу в бланке работы (по 2 балла за правильный ответ, максимальный балл – 8)

СОБЫТИЯ ОТЕЧЕСТВЕННОЙ ИСТОРИИ	СОБЫТИЯ ЗАРУБЕЖНОЙ ИСТОРИИ
A Правление Ивана II Красного	1 Казнь Жанны д'Арк
Б Аннексия Русской церкви	2 Присоединение Фридриха I Вальбурсы
В Битва на реке Стри	3 Четвертый крестовый поход
Г Убийство Андрея Боголюбского	4 Битва на Косовом поле
Д	5 Великая схизма

A	Б	В	Г

Задание 5. Прочитайте фрагменты исторических источников и портреты монахов. Заполните таблицу. (4 балла за каждую полностью правильно заполненную строку, 1 ошибка – 3 балла, 2 ошибки – 2 балла, 3 ошибки – 1 балл, 4 ошибки – 0 баллов. Максимальный балл – 12 баллов)

Определите из исторических источников:

1. «А се даю сыну своему, князю Василью, Копючу со всеми волостями, и с тамого, и с мытга, и с бортью, и с селга, и со всеми пошнами: А волости Коломенские: Мещеря, Рамека, Десочна, Братва с селска с Глузюно и с Иванск, Гжега, деревни Лавини, Скушера, Марковца, Каня, Кочока, Комарева с берегом, Города, Дюряна, Усть-Мерско. А из Московских сел даю сыну своему, князю Василью: Митли пошник, Малаховское, Костянтиновское, Жыродичны деревни, Островское, Ориничьское, Колотенское, Хавостовское, у города дуг Везинки за рекою. А из Юрьевских сел даю сыну своему, князю Василью: своего прикутя Красное село с Елизаровыми, с Проватовым, да село Васильевое в Ростове. <-> А дитя мой младшая, братя князя Васильева, чте и слушайте своего брата старшего, князя Василья, в мое место, своего отца. А сын мой, князь Васильий, держит своего брата, князя Юрья, и своею братью млошоюю в братстве, без обиды»

2. «...10. Если человек толкает человека от себя или к себе, по 3 гривны, и путь постраданий привезет на суд двух свидетелей; если постраданий вагит или колбят, по путь сам казнится»

...17. Если холоп ударит свободного человека и убьёт в господский дом, а господин его не будет выдавать, то холопа господину взять, и псу, упавши господина за него 12 гривен, а после того, где тот ударенный человек встретит его, псу, убьёт его.

19. Если убьёт отпущенна за обиду, то убийца платит за него 80 гривен, а холоп не надо, и за княжеского подвасного 80 гривен.

20. А если убьёт отпущенна в рабсе, а убийцу люди не шут, то виру платить той верви, где лежит убитый.

21. Если убьёт отпущенна у кмети, или у вои, или у быка, или во время яржеи короуы, то убить убийцу как собаку. И тот же закон в отношении тгува.

22. А за княжеского тгува 80 гривен»

3. «55 О ЗАМЬЕХ. А которой купец, идучи в торговлю, возьмет у кого денги или

товар, да на пути у него утравится товар безхитростно, неспомет, или згорит, или рать возмет, и боарин обыска, да велит дати тому диву великого князя полстругу грамоту с великого князя писанно, платити исдеву истину без рости. А кто у кого взавши что в торговлю, да шел просит или иным каким бесумным потубит товар свой без напраздництва, и того исцо в тибоди выдати головою на продажу.

56. А холопа головоит рать татарска, а выбежит не полюку, и он свободен, а старую государю не холоп.

57. О ХРИСТИАНСКОМ ОТКАЗЕ. А Христианом отказывается на волюсти, ис села в село, один срок в году, за несею до Юрьева дни осеннего и несею после Юрьева дни осеннего.

Дворы покаяные платит в поек за двор рубль, а в десею покаян. А которой христианши покаянет за кми год, да пойдет прочь, и он платит четверть двора, два года покаянет да пойдети прочь, и он пойдети прочь, а три годы покаянет, а пойдети прочь, и он платит три четверти двора, а четыре года покаянет, и он весь двор платит.

58. О ЧЮЖОЗЕМЦЕХ. А которой чюжоземца на чюжеские чюг вышлет, ино того вода, да ком шут, хонет отпущется, что в том не виноват, или у креста положит чюг на нем шут, и летит, пошолов прест, да возмер»

Портреты монархов:



Номер отрывка	Номер изображения	Имя правителя	Название документа	Век создания документа
1				
2				
3				

Задание VI. Прочитайте отрывок из летописи и ответьте на вопросы (Максимальный балл – 10).

В лето 6933. Месеца февралю преставился князь великий Василий Дмитриевич, поета 2 недели втреник, пошу часа 3; положеи бысть в граде Москве в церкви святого архангела Михаила, а был на великом княжении 36 лет, а дау у него сына, первый — Иван, второй — Василий. Того же лета сел на великом княжении князь Василий Васильевич. Того же лета поставил владыка Еуфимия Великому Новгороду. Того же лета преставился князь великий Иван Михайлович Тиреский. Того же лета сел на великом княжении в Твери вук его князь Борис Александрович. Того же лета мор был во Фреурской земли, потом на Москве. Того же лета поставиша церкву две каменны, ставило Дугу на Дубиници, а Бориси и Глеба на Тени. Да сединам дием поставиша церковь Деревяну святой Слве Милостивый за отпиром святого Софиа.

...В лето 6935. Мор был селен на Москве и по всем Градом Руским.

...В лето 6939. Месеца июля 2 день преставился князь великий Витоль Литовский, а княжоний был 30 лет с летом. А в Литве сел на великом княжении князь Швиргидаль. Того же лета престависа Фотей митрополит вса Руса. Того же лета мга стоила, 6 недель сонца не видали, рыва в воде мери и пшши на землю падали, не видели летати. Того же лета князь великий Василий Васильевич да князь Юрак Дмитриевич спершиа, о великом княжении да пошли в Оруу ко царю Махаму. Царь показовал, дал великое княжение великому князю Василию Васильевичу, а князь Юрак даи Дмитрию. Того же лета был бой великий на Оуде Реве князю Швиргидалью с князем Жидимонтом о великом княжении Литовском и ста на востех князь Жидимонт.

...В лето 6933. Месеца июля 7 день был бой Суздальский с Малютком князе царя 19 великому князю Василию Васильевичу, великого князя побили и побили и брата его князя Михаила Александровича до Ондрца Федоровича Голта да Василия Шеро Михайловича.

В лето 6954. Князь великий Василий Васильевич вышол из полюку от царя Малютка, принисе Иван Одревенн похвалил великого князя Василия Васильевича у Троици в Сергиее монастыри и ои вышли у него и послали его на Углич. Того же лета родисе великому князю Ва сильно Васильевичу сын князь Ондрца Большой на Угличе.

Вопрос:

6.1. Назовите прозвище князя, который сел на великое княжение в 6933 году? Объясните происхождение этого прозвища. (2 балла)

Ответ: _____

6.2. Какое событие произошло в 6939 году, оказало важное влияние на внутреннюю политику Московского княжества? Используйте знания истории, укажите, как оно связано с феодальной войной? (2 балла)

Ответ: _____

6.3. Используйте знания истории, укажите как минимум одно последнее событие 6933-6954 годов для внутренней политики Московского государства. (2 балла)

Ответ: _____

6.4. Вычислите год, в который на Руси началась вторая волна чумы. Как летописец называет эту болезнь? (2 балла)

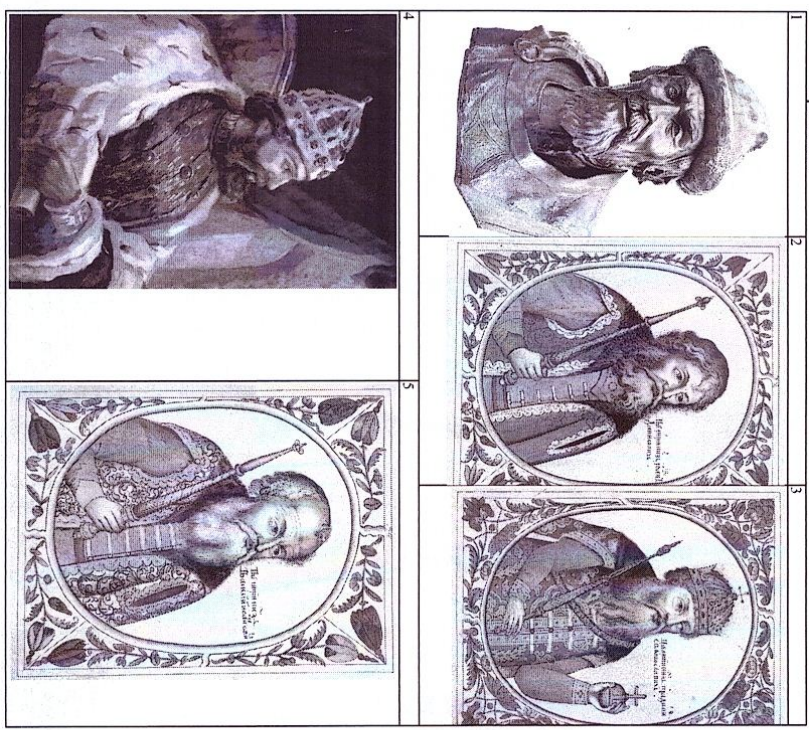
Ответ: _____

Задание VII. Перед Вами изображения исторических событий, определите какое событие изображено и укажите его дату (с точностью до года). (По 1 баллу за каждое правильно названное и 1 балл за правильную дату, максимальный балл – 8 баллов).




№	Событие	Дата (с точностью до полювной века)
1		
2		
3		
4		

Задание VIII. Рассмотрите изображения архитектурных сооружений и портреты русских правителей. (За задание 8.1. 3 балла за каждую правильно записанную строку, 1 ошибка – 2 балла, 2 ошибки – 1 балл, 3 ошибки – 0 баллов. Максимальный балл – 20).
Заполните таблицу: укажите имя правителя, название архитектурных памятников, которые были заложены или построены во время их правления, город, в котором находится или находился каждый представленный памятник архитектуры (Правители и города могут повторяться).
Правители:



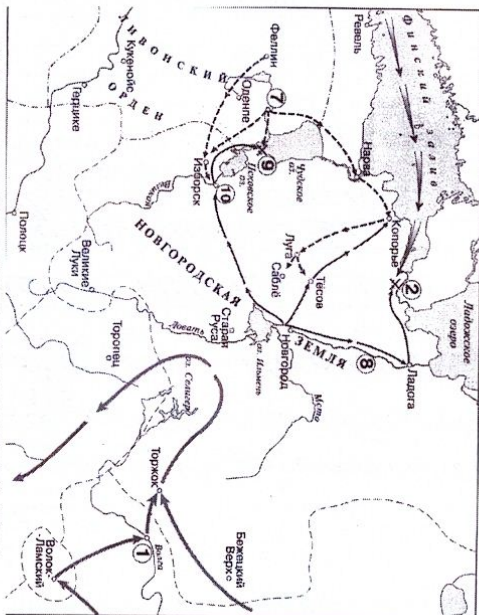
1		
2		
3		
4		
5		

Памятник архитектуры:



№ портрета правителя	Имя правителя	Памятник архитектуры (цифра)	Название	В каком городе находится (название)
1				
2				
3				
4				
5				

Задание IX. Рассмотрите карту и решите задания. (Максимальный балл за задание - 7 баллов)



9.1. Укажите название битвы, обозначенной на схеме цифрой «2» (1 балл)

9.2. Укажите название реки, обозначенной на схеме цифрой «8» (1 балл)

9.3. Какие суждения, относящиеся к схеме, являются верными? Запишите цифры, под которыми они указаны (5 баллов за полный ответ, 3 балла - 1 ошибка, 2 балла - 2 ошибки, 1 балл - 3 ошибки, 0 баллов - 4 ошибки)

- 1) Цифрой «1» на схеме обозначен город Рязань
- 2) На карте отражены события противостояния крестоносцев и северо-западных русских княжеств в XIII веке
- 3) На карте обозначен город - важный торговый центр Новгородского княжества, поставщик продовольствия из северо-восточной Руси
- 4) На карте обозначена древняя территория расселения одного из восточнославянских племенных союзов
- 5) Цифрой «6» на схеме обозначен город, который в XIV веке соперничал с Москвой в борьбе за роль центра объединения северо-восточных русских земель
- 6) На карте обозначена одна из самых мощных крепостей Ливонского ордена
- 7) На карте указаны направления походов князя Александра Ярославича
- 8) К концу столетия, события которого отражены на карте, территория к западу от реки Югва вошла в состав Московского княжества

Ответ: _____

Задание X. Определите пропущенные в тексте названия, слова, имена, даты, обозначенные порядковыми номерами. При необходимости при порядковых номерах даются пояснения о характере Требуемой вставки. Необходимо вставки выписать под соответствующими номерами в таблицу в бланке работы (Максимальный балл-10)

Еще 1 (имя и прозвание) _____ пересели великое княжение Владимирово сыну свату Василию I по неслучаю, однако тот был вынужден все равно подприслать данный шат армяком Тохтамыша. Борба Василия Тогомо в ходе 2 (события) _____ попой четверти XV века, со своим дядей и его сыновьями, в результате которой он дважды терял брата великокняжеского правления, показала, что обозначение деятельности престола Требует значительных усилий. Отсюда объявление наследника 3 (типа) _____ при жизни отца и его соправительство.

Взломать данному шату 4 (имя и порядковый номер) _____ взошел на великокняжеский престол уже без ханского подтверждения, чему способствовали и распад Золотой Орды. Освобождение от ордынского ига в 5 (год) _____ в ходе встания на Угре позволило Москве, во-первых, завершить процесс объединения русских земель. А во-вторых, образовать ту систему управления суверенным государством, что стала плодом синтеза государственно-правовых структур киевского наследия, византийских традиций и 6 (форма владения) _____ владения. Эта государственность стала характерной особенностью России в сфере управления и правовой системе.

Объединение земель есть одно из главных условий возрастания власти московского князя, т.к. в восточном государстве размеры территории находят в прямой взаимосвязи с могуществом его правителя. 7 (процесс) _____ характеризовался отвержением местных обычаев: князей, бояр, служилых людей переселили к Москве, в поместья, а в их землях поместья получили москвичи. В результате такой акции потихоньку оппозиционные силы утрачивали экономическую самостоятельность, превращаясь в объективных служилых людей. Пребывание на новом месте диктовало переселены совершенно новую модель поведения, ориентированную на полное послушание великому князю. Таким ход объединенная земля экономически и политически осваивал 8 (категория населения)

При Иване III складывается та особенность русского феодализма, что отличает ее от Европы: все люди – не подданные, а 9 (категория населения) _____ государя. В Европе был вассалитет, а в России, после истребления прослойки служилых усадебных князей, к концу I ба, отношения принимают форму «стопар» – «холоп». Причина этому – московские князья долгое время являлись «служебными» ордынских 10 (типа) _____. Теперь такая форма отношений переносится в Россию, так как в XIII веке пошла волнаная злита, а ее место заняла новая покорная злита.

1	
2	
3	
4	
5	
6	
7	
8	
9	
10	